


THEORIEBLAD 4

SCHRIJF DE NOTEN NAMEN ONDER DEZE NOTEN :




TEKEN WAARDESTREPEN OM GROEPJES VAN 4 ACHTSTEN TE MAKEN :



MAATSTREPEN

MAATSTREPEN HELPEN ONS OM TE TELLEN. TEKEN MAATSTREPEN LANGS DE STIPPEL LIJNEN IN DEZE MELODIETJES. AAN HET EIND VAN DE MELODIE IS ER ALTijd EEN DUBBELE STREEP :



KUN JE DEZE MUZIEKSOMMETJES MAKEN ?

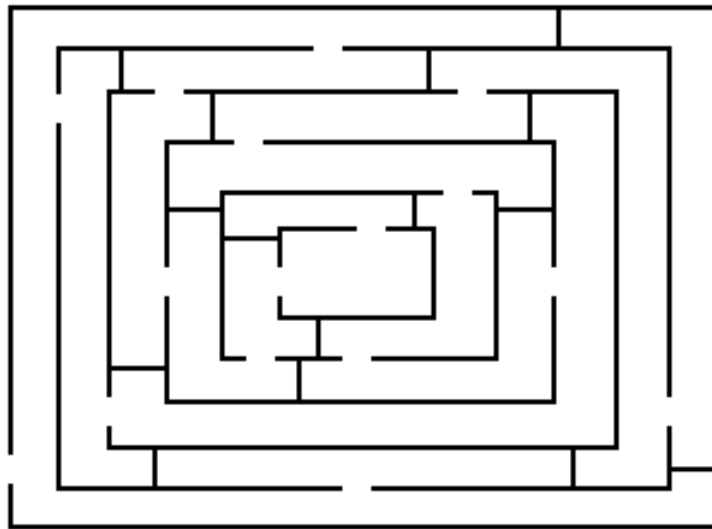
$$\text{♪} + \text{♪} + \text{♪} = \text{○}$$

$$\text{♪} + \text{♪} + \text{♪} =$$

$$\text{○} - \text{♪} - \text{♪} =$$

$$\text{♪} + \text{♪} + \text{♪} - \text{♪} =$$

ZOEK EEN WEG DOOR HET DOOLHOF OM BIJ DE PIANO TE KOMEN....



OPMERKINGEN